



ГЕОГРАФИЧЕСКИЙ РИСУНОК ЕВРОПЫ

- Какие европейские страны имеют наиболее сильную экономику?
- Какие государства Европы можно отнести к странам с переходной экономикой?
- Какие страны Европы не входят в ЕС?

1. ЦЕНТРАЛЬНАЯ ОСЬ РАЗВИТИЯ

- 1 Это главный экономически развитый регион Европы
- 2 Объединяет Великобританию, Германию, Францию, Бельгию и Нидерланды
- 3 Здесь самое выгодное ЭГП, большая плотность населения и особенно развитая промышленность
- 4 Стержень оси – линия от реки Рейн до реки Роны



ЦЕНТРАЛЬНАЯ ЕВРОПА



Именно этот регион принято называть «Центральная Европа». Его высочайшее развитие в XIX веке предопределило большое количество полезных ископаемых, на базе которых и развивалась здешняя промышленность



- Что называется городской агломерацией?

2. ВЫСОКОРАЗВИТЫЕ РАЙОНЫ

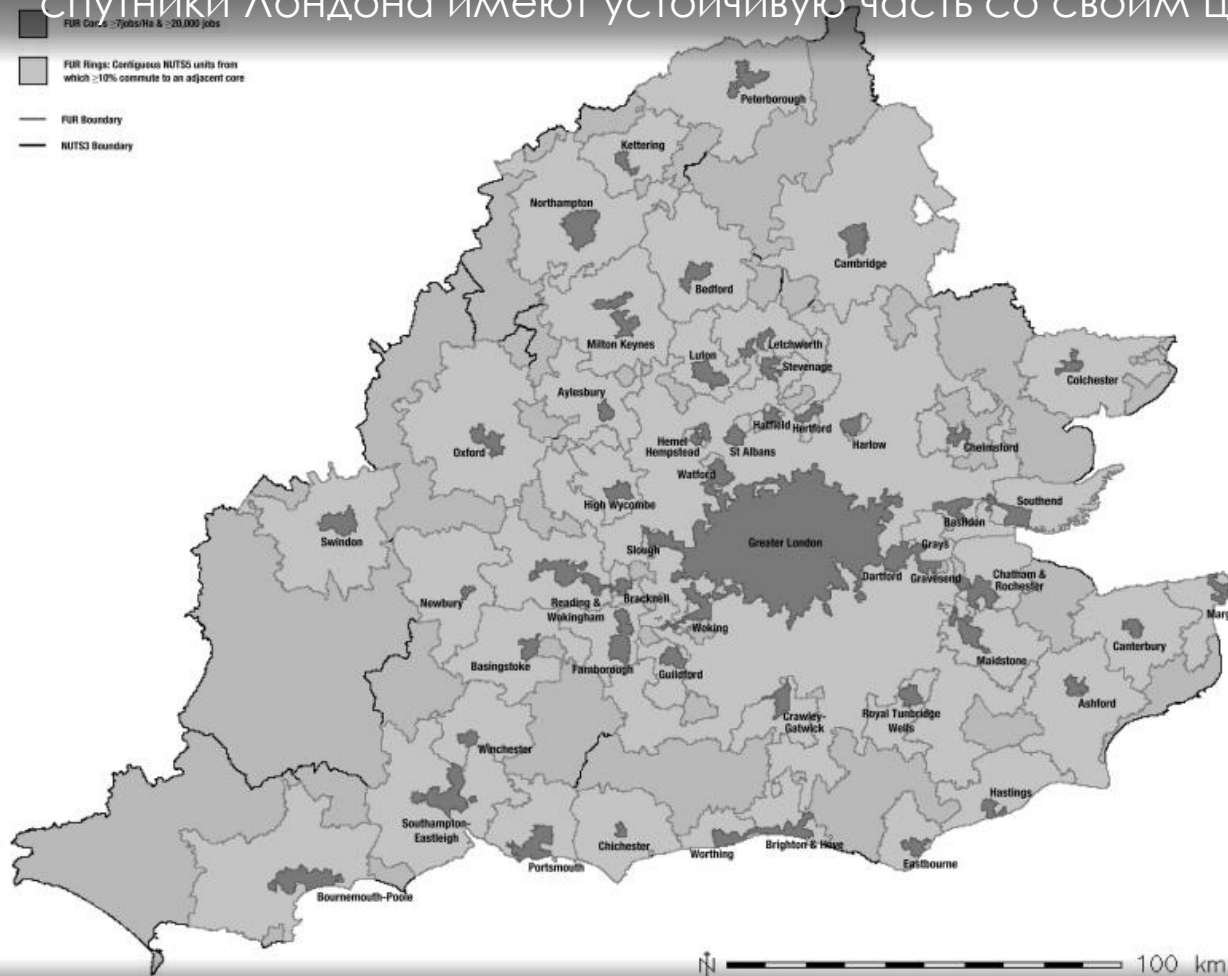


- 1 Находятся в местах расположения крупных столичных агломераций
- 2 Здесь создаются научные центры с высокотехнологичными отраслями
- 3 В этих районах размещены штаб-квартиры крупнейших промышленных международных компаний и корпораций
- 4 Такие районы есть в Париже, Лондоне, Мюнхене, Штутгарте, Милане, Турине и др.



ЛОНДОНСКАЯ АГЛОМЕРАЦИЯ

В «столичный регион» Лондона входит далеко не только сама столица. В центральной части Лондона живёт 2,5 млн человек, а на территории «Большого Лондона» проживают более 10 млн. Все города-спутники Лондона имеют устойчивую часть со своим центром



- Каковы главные причины роста лондонской агломерации?
- Как называется процесс переезда людей из сёл в города?

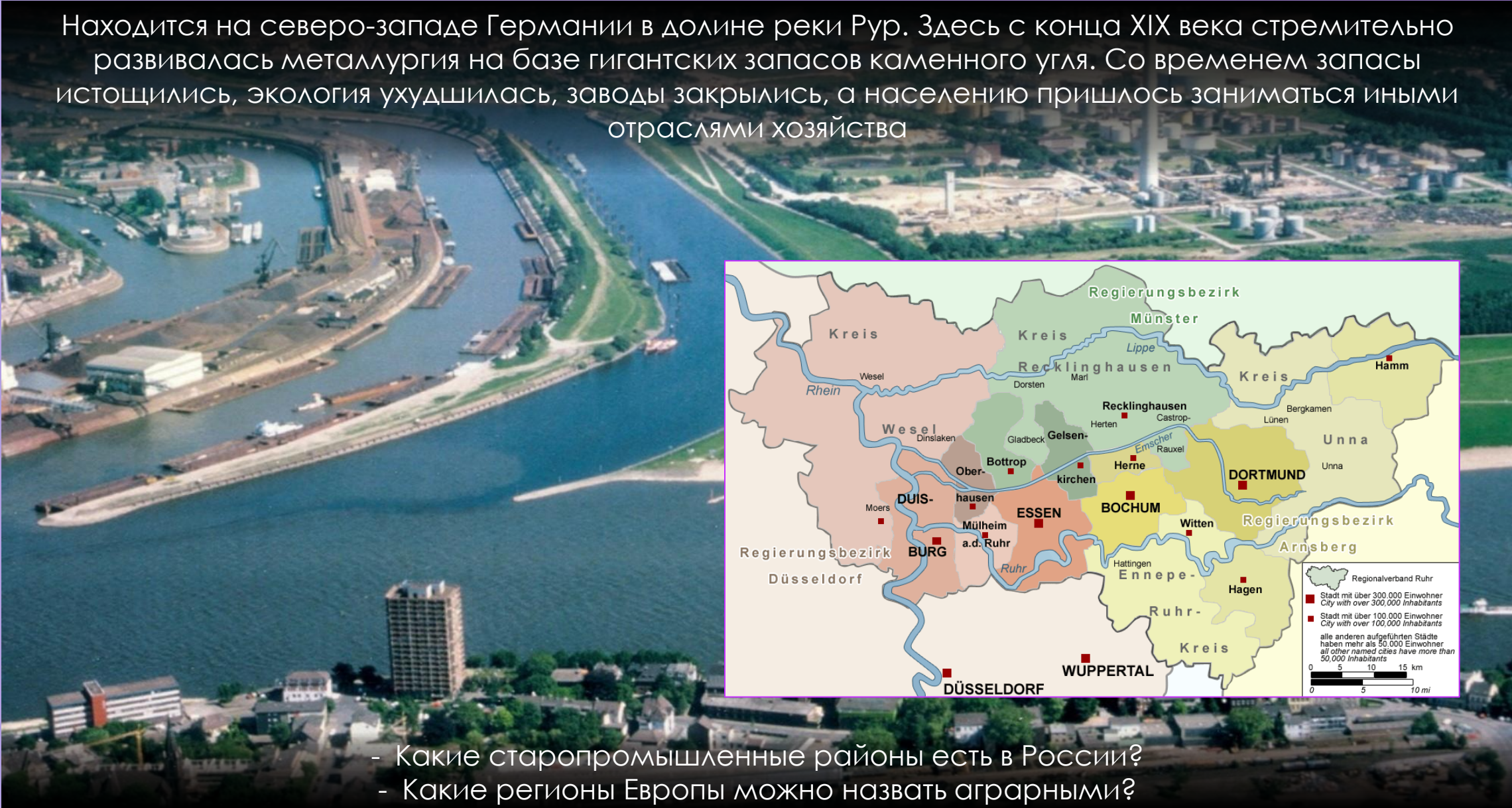
3. СТАРОПРОМЫШЛЕННЫЕ РАЙОНЫ



- 1 Получили развитие в эпоху индустриализации Европы
- 2 Здесь сохранились старые отрасли промышленности (металлургия, угольная пром.), которые работают на остатках бывшего сырья
- 3 Примерами служат Рур (Германия), Ланкашир (Великобритания), Лотарингия (Франция), Верхняя Силезия (Польша, Чехия)
- 4 Сейчас большая их часть являются депрессивными и испытывают отток населения



Находится на северо-западе Германии в долине реки Рур. Здесь с конца XIX века стремительно развивалась металлургия на базе гигантских запасов каменного угля. Со временем запасы истощились, экология ухудшилась, заводы закрылись, а населению пришлось заниматься иными отраслями хозяйства



- Какие старопромышленные районы есть в России?
- Какие регионы Европы можно назвать аграрными?


4. АГРАРНЫЕ РАЙОНЫ



- 1 Специализация на с/х не позволяет жителям этих районов иметь большие доходы
- 2 Испытывают отток населения, особенно, молодёжи, уезжающей в города
- 3 Чтобы изменить ситуацию власти сооружают тут предприятия вторичного сектора
- 4 Примерами таких районов служит юг Италии, юго-западная и центральная Испания, отдельные районы Португалии, Греции



Занимает 40% территории страны, здесь проживают 35% её населения, однако, приносит он лишь 18% дохода в бюджет государства. Доход на душу населения здесь почти в два раза меньше, чем на Севере



- Какие еще районы Европы являются отстающими?

5. РАЙОНЫ НОВОГО ОСВОЕНИЯ



- 1 Располагаются на шельфе Северного моря и на севере Скандинавского п-ова
- 2 Здесь ведется добыча нефти, газа и разработка лесных ресурсов
- 3 Кроме того, Северное и Норвежское моря – важнейшие районы рыболовства



Норвежская компания Equinor совершила первое в 2021 году открытие месторождения полезных ископаемых на планете — в Северном море, в 130 км северо-западнее норвежского порта Берген. В шельфе на глубине 3555 м выявили газовое месторождение.



ФИНАЛЬНЫЕ ВОПРОСЫ



- 1 Какие территории Европы относятся к центральной оси?
- 2 Охарактеризуйте высокоразвитые районы Европы
- 3 Какие территории Европы относят к старопромышленным?
- 4 Почему старопромышленные районы испытывают упадок?
- 5 Где располагаются отсталые аграрные районы Европы?
- 6 Где в Европе находятся районы нового освоения?
- 7 Что добывается в их пределах?